

## General Knowledge

### Sample 1

#### English



Name the following pictures.



Ask any 3, of which 2 must be correct

#### Math 1

Tell the time



Ask any 1, which must be correct

#### Urdu

رانی کے پیٹ میں کیوں درد تھا؟ Q1

اس نے کونسی دو غلطیاں کی تھیں؟ Q2

#### Pashto

نیا به اوبه دکوم خاے نه راورلي؟ Q1

ستاسو کور ته اوبه دکوم خاے نه راخي؟ Q2

#### Sindhi


احمد کي چا جو شوق آهي؟ Q1

هو شام جو چا ڪندو آهي؟ Q2

Sample 1

Math 2

قیمت جدول



ہدایات :-

- یہ پہلی جماعت سے پانچویں اور اس سے اوپر کے بچوں کو دیتے اور اسکول نہ جانے والے بچوں میں 10 سے 16 سال کی عمر کے بچوں کے دیتے۔
- یہ ٹول ریاضی کے ٹول کے بعد بچوں کو دیتے۔
- ہر سوال کو پڑھ کر سنائیں کوئی بھی سوال دوسرے سے زیادہ نہ دہرائیں۔
- حل کرنے کا طریقہ نہ سمجھائیں۔
- سوال نمبر 1 اور 2 کے لئے جدول کے دامن پڑھ کر نہ سنائیں۔

مندرجہ بالا تصاویر کو دیکھیں۔ اس میں کئی چیزوں کی قیمت دی گئی ہے جیسے ایک کتاب 95 روپے کی ہے۔ انہیں دیکھ کر نیچے دیئے گئے سوالات کے جوابات دیں۔

1Q اسلم نے ایک کپ اور ایک بسکٹ خریدے۔ اس نے کل کتنی رقم ادا کی؟

2Q بانو کی امی نے 4 گیندیں خریدیں۔ انہوں نے کل کتنی رقم ادا کی؟